

ELABORADO POR “Profr. J. Jesús Pérez Martínez”, para zonaclicmexico.es.tl

ADAPTADO PARA SU USO IMPRESO POR CHANNELKIDS.COM

EL METRO

MEDIDAS DE LONGITUD



ChannelKIDS
innovando en un clic

RECORTA Y PEGA

diezmillonésima parte del cuadrante de un meridiano terrestre. Este	A raíz de la REVOLUCION FRANCESA, en 1795 se propuso un sistema de	medida basado en la Tierra y no en las del cuerpo humano, y
longitud se le llamó METRO, que inicialmente se definió como la	cuyos múltiplos y submúltiplos fueran decimales. A la unidad de	sistema se conoció como Sistema Métrico Decimal.

RELACIONA CORRECTAMENTE

<p>En lugar de utilizar el cuerpo humano, el metro utiliza un sistema basado en la medida de la:</p>	<p>El metro tuvo su origen en la:</p>	<p>Es la unidad de medida del Sistema Métrico Decimal</p>
--	---------------------------------------	---

<p>Revolución Francesa</p>	<p>Metro</p>	<p>Tierra</p>
----------------------------	--------------	---------------

ENCUENTRA LOS MÚLTIPLOS Y SUBMÚLTIPLOS

M	L	K	L	M	O	R	T	E	M	I	T	N	E	C
O	E	F	U	P	W	Y	G	M	V	I	W	F	N	O
R	L	T	L	U	V	B	H	O	F	K	A	H	C	R
T	A	U	R	T	E	S	Z	L	C	D	D	X	X	T
E	T	E	H	O	U	L	P	Z	Z	E	W	C	T	E
M	S	I	U	P	C	O	D	X	H	R	X	U	I	M
A	T	D	E	C	I	M	E	T	R	O	R	V	M	O
C	J	Q	T	Z	R	M	D	E	I	Y	N	B	O	L
E	Z	M	I	L	I	M	E	T	R	O	T	V	Z	I
D	K	H	E	C	T	O	M	E	T	R	O	M	O	K

¿CUÁL ES LA MEDIDA ADECUADA PARA MEDIR LO QUE REPRESENTA CADA DIBUJO?



Centímetros



Kilómetros



Metros



RESUELVE ESTOS PROBLEMAS

El Éverest es la montaña más alta del mundo, mide 8 848 metros ¿cuántos kilómetros mide de altura?




RESPUESTA: _____

El K2 es la 2ª montaña más alta del mundo mide 8 611 metros ¿cuál es la diferencia en km entre el Éverest y el K2?




RESPUESTA: _____

La Fosa de las Marianas, la más profunda de los océanos, tiene una profundidad de 11 km, si un submarino ha descendido 9 500 m ¿cuántos hectómetros le faltan para llegar al fondo?



RESPUESTA: _____

El Ecuador es el paralelo de mayor tamaño, tiene una longitud de 40 091 kilómetros ¿cuántos metros mide el Ecuador?



RESPUESTA: _____

RESUELVE ESTOS PROBLEMAS

El río Pánuco es el límite entre Tamaulipas y Veracruz, mide 600 000 metros de longitud ¿cuántos km mide de largo?



RESPUESTA: _____

El Yang Tse Kiang (o Chiang) es el río más largo de Asia, tiene una longitud de 6 300 km ¿cuántos hectómetros mide de largo?



RESPUESTA: _____

El río Nilo es el más largo del mundo tiene una longitud de 6 671 km ¿cuántos metros mide de largo?



RESPUESTA: _____

El Amazonas es el 2° río más largo y el más caudaloso del mundo, mide 6 437 km ¿con cuántos metros lo supera el río Nilo?



RESPUESTA: _____

RESUELVE ESTOS PROBLEMAS

La luz del Sol viaja a una velocidad de 300 000 km por segundo ¿cuántos metros recorre la luz en un segundo?



RESPUESTA: _____

La distancia promedio entre la Tierra y la Luna es de 384 000 kilómetros ¿cuántos hectómetros separan a la Luna de la Tierra?



RESPUESTA: _____

El diámetro de la luna es de 3 476 km ¿cuántos metros mide el diámetro lunar?



RESPUESTA: _____

El diámetro de la Tierra es de 12 815 000 m ¿Cuántos kilómetros mide el diámetro terrestre?



RESPUESTA: _____

RECORTA Y PEGA DONDE CORRESPONDA

centi	
Hecto	
Deca	

mili	
deci	
Kilo	

diez

centésimo

cien

décimo

mil

milésimo

RECORTA Y PEGA DONDE CORRESPONDA

centímetro	
decímetro	
decámetro	

hectómetro	
kilómetro	
milímetro	

$1/10$ m

$1/1000$ m

10 m

100 m

$1/100$ m

1 000 m

RECORTA Y PEGA DONDE CORRESPONDA

decámetro	
centímetro	
milímetro	

hectómetro	
kilómetro	
decímetro	

mm	Km	dm	cm	Hm	Dam
----	----	----	----	----	-----

RECORTA Y PEGA DONDE CORRESPONDA

7.6 Hm	3.5 Km	9.3 Dam

7.55 Hm	6.005 Km	5 Dam

755 m	6 005 m	50 m
93 m	3 500 m	760 m

RECORTA Y PEGA DONDE CORRESPONDA

7.6 Hm	3.5 Km	9.3 Dam

7.55 Hm	6.005 Km	5 Dam

755 m	6 005 m	50 m
93 m	3 500 m	760 m

¿A CUÁNTOS METROS EQUIVALEN LAS MEDIDAS?

3.5 Km	6.005 Km	9.3 Dam


7.55 Hm	7.6 Hm	5 Dam

500 Hm	50 Dam	1/2 Dam


5 Dam	5 Km	500 Km

RECORTA Y PEGA DE MAYOR A MENOR

7.6 Hm
9.3 Dam
5 Dam
3.5 Km
7.55 Hm
6.005 Km



500 Km
500 Hm
5 Km
5 Dam
1/2 Dam
50 Dam



RECORTA Y PEGA DONDE CORRESPONDA

5 Dam

1/2 Dam

50 Dam

500 Km

5 Km

500 Hm

5 m

50 m

500 m

5 000 m

50 000 m

500 000 m

RELACIONA CORRECTAMENTE

25.006 km

20.5 km

12 km

7 km

9.1 km

30.25 km

7 000 m

9 100 m

12 000 m

20 500 m

25 006 m

30 250 m

¿A CUÁNTOS METROS EQUIVALEN LAS MEDIDAS?

65 hectómetros

7.06 hectómetros

9.5 kilómetros

8.1 kilómetros

500 decámetros

30 decámetros

5 decámetros

17.2 kilómetros

12 hectómetros

VISITA



ChannelKIDS
innovando en un clic

VISITA

[HTTP://CHANNELKIDS.COM](http://channelkids.com)

PARA MAS MATERIAL GRATUITO